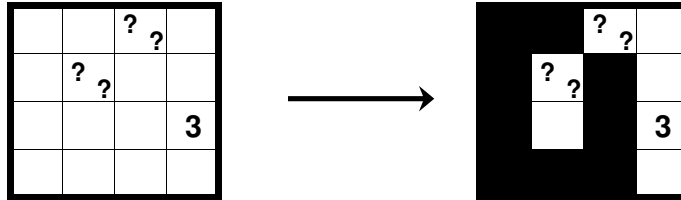


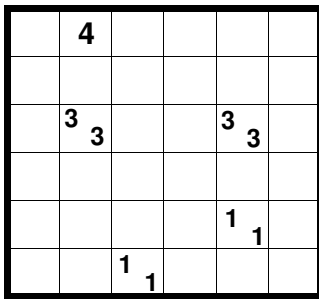
Tapa - kérdőjelekkel

Feketítsen be néhány mezőt az ábrában úgy, hogy azok egy összefüggő területet alkossanak, ami önmagát legfeljebb sarkosan érinti, és nem tartalmaz olyan 2x2-es területet, ahol mind a négy mező fekete. A számok azt jelentik, hogy a velük oldalasan vagy sarkosan érintkező mezőkben hány és egyenként milyen hosszúságú csoportokban helyezkednek el a **fekete** mezők. Számokat tartalmazó mezőket nem szabad befeketíteni. Néhány szám helyét kérdőjellel jelöltük, a kérdőjelek helyén minden esetben pozitív egész számok állnak, de hogy pontosan micsoda azt önnek kell kitalálnia.


Minta:




●●●●○○○○○ nr.808



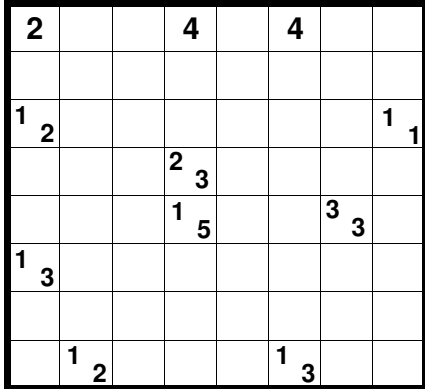
●●●●○○○○○ nr.809



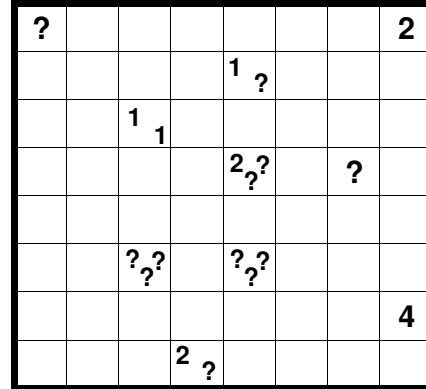
●●●●○○○○○ nr.810



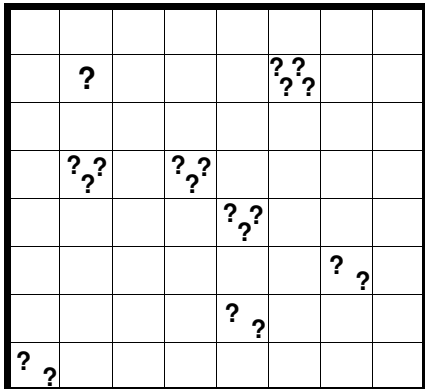
●●●●○○○○○ nr.811



●●●●○○○○○ nr.812



●●●●○○○○○ nr.813



●●●●○○○○○ nr.814

