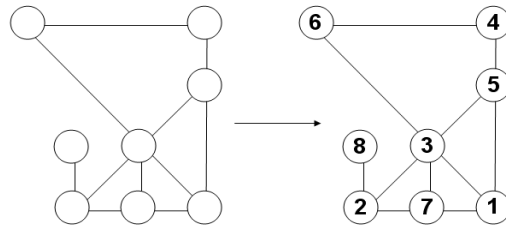


# Pókhálószámán

Írja a körökbe az 1-től 9-ig ( a 281. és 282. rejtvény esetén 10-est is használni kell) terjedő egész számokat úgy, hogy minden berajzolt vonalon annyi legyen a számok összege, mint ami az ábra mellett szerepel!



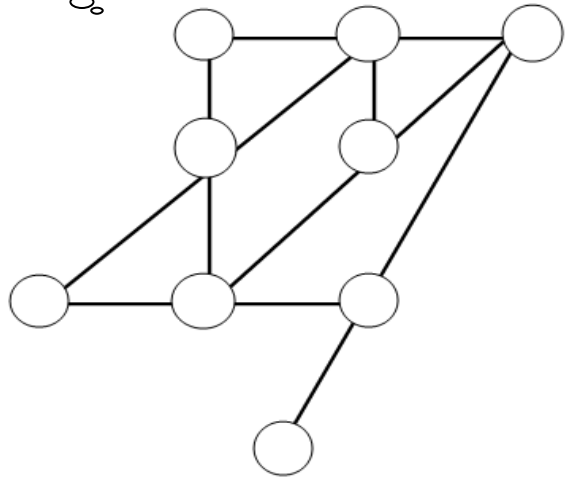
nr.279

$\Sigma: 13$

$\Sigma: 13$

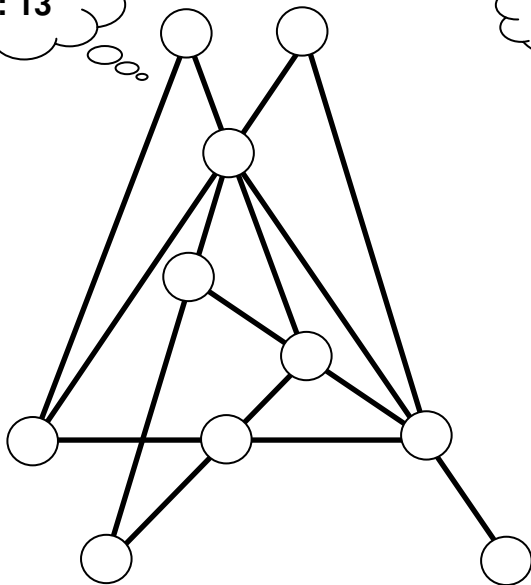


nr.280



nr.281

$\Sigma: 13$



nr.282

$\Sigma: 15$

