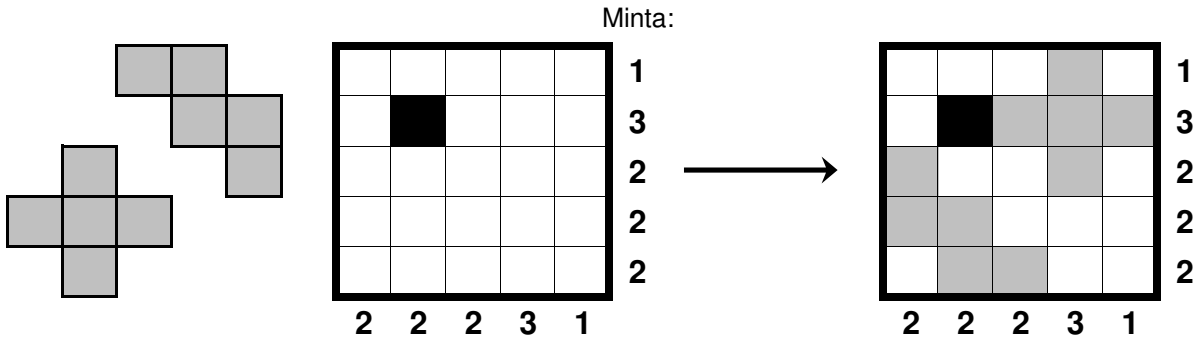


Pentominó

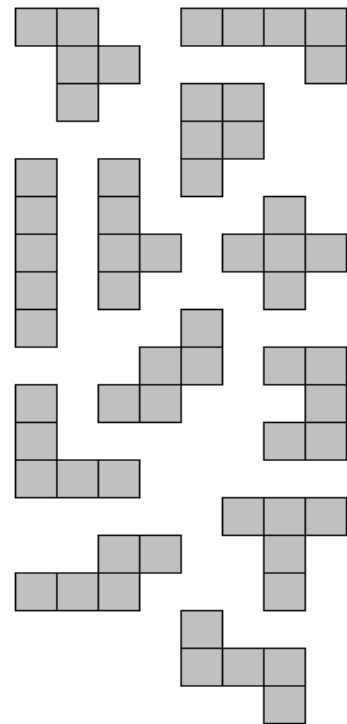
Helyezze el a lenti alakzatokat (azaz pentominókat) az ábrában (mindegyiket egyszer) úgy, hogy azok egymást még sarkosan se érintsék! Az egyes alakzatok elforgathatóak, de nem tükrözhetőek. A sorok/oszlopok végén álló számok azt jelentik, hogy az adott sorban/oszlopban hány mező tartalmaz pentominó részletet. A fekete mezők nem lehetnek részei egyetlen alakzatnak sem.



●●●●●○○○○ nr.185

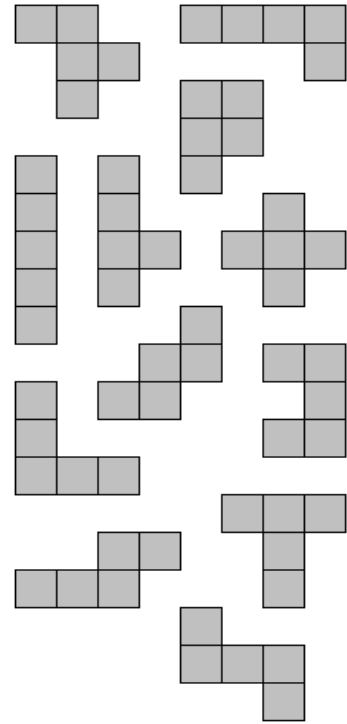

The grid for puzzle nr.185 has the following row and column counts:

5									
6	■		■						
7					■			■	
3	■		■						
1									
8	■					■			
5							■		
6		■						■	
4				■					
2	■								■
8			■				■		■
5	■								
8	4	5	3	5	1	10	2	5	5
6	6								



●●●●●●○○○○

nr.186



●●●●●●○○○○

nr.187

