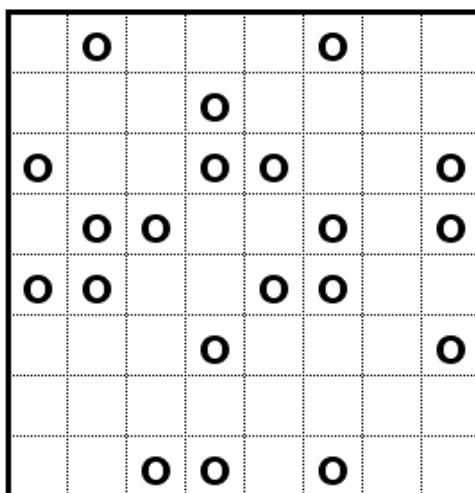
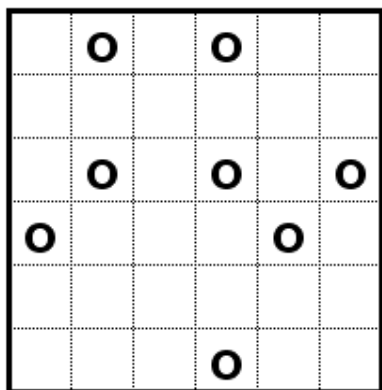


Hurokkereső - Töréspontok

Rajzoljon egy-egy önmagába záródó hurkot, melynek nincs eleje és vége, valamint nem tartalmaz megszakításokat. A vonal nem metszi és fedi saját magát, és minden berajzolt körön megtörik.
5 + 10 pont




Irodaház

Az ábránk egy irodaházi szintet mutat felülnézetből. Minden szám egy irodát szimbolizál, és azt jelenti, hogy onnan mennyi másik irodát lehet látni. Az ön feladata a válaszfalak berajzolása. **15 pont**

3	4	7	5	4	6
5	6	7	5	2	4
4	5	6	4	5	5
5	6	7	5	4	4
4	3	6	4	5	3
5	4	3	5	4	2

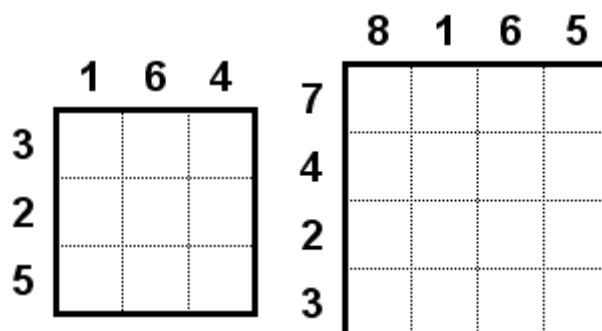
Számtenger

Szeletelje fel az ábrát úgy, hogy a kapott darabok területe különböző legyen (6-tól 14-ig). A számoknak az adott területű összefüggő darabban kell elhelyezkedniük. **35 pont**



Fontos a sorrend

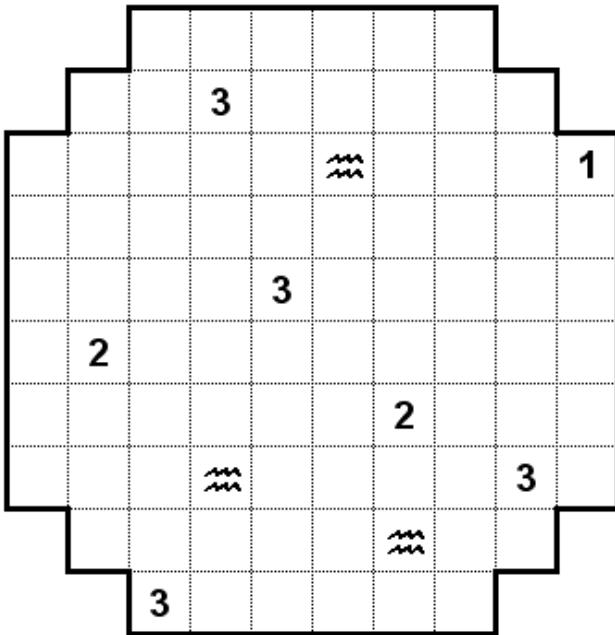
Töltse ki az ábra mezőit 1-es, vagy 9-es számokkal. Ily módon hat illetve nyolc szám alakul ki. Az ábra melletti számok ezen értékek növekvő sorrendjét mutatják. **15 + 30 pont**



Világítótornyok

Helyezzen el 10db 1x1-es méretű hajót az ábrába. A számok azt jelentik, hogy az adott sorban és oszlopban összesen mennyi hajó található. A hajók sem egymást, sem a világítótornyokat nem érinthetik még sarkosan sem. A hullámmal jelölt mezőn nincs hajó.

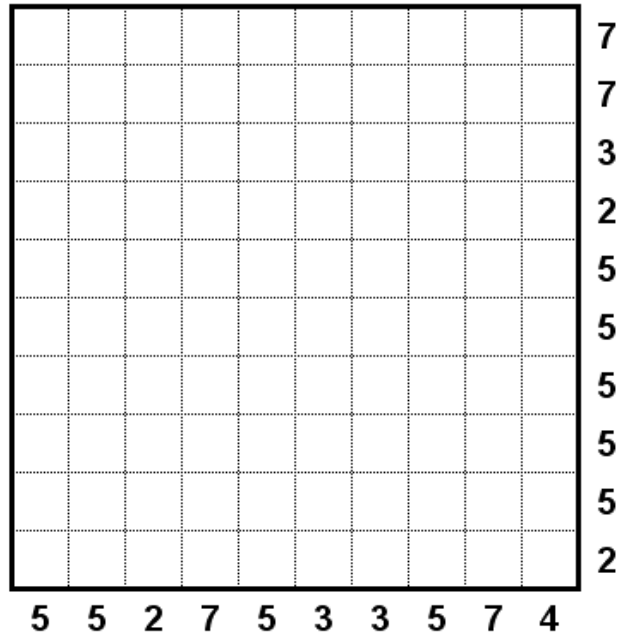
40 pont



Szigetvilág

Az ábra egy olyan tengert szimbolizál, amelyben téglalap alakú szigetek találhatóak. A szigetek legalább 2x2 egység méretűek. A számok azt jelzik, hogy az adott sorban vagy oszlopban mennyi mezőben van sziget.

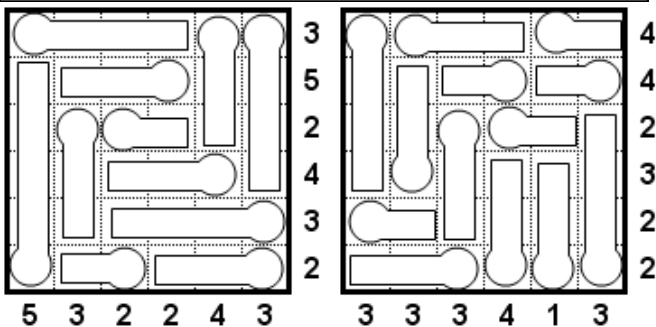
60 pont



Hőmérők

Az ábrában hőmérők találhatóak, melyekben a higany mindig a kiszélesedő tartályból indul, és akár a tetejéig is felérhet, persze lehet olyan hőmérő is, amelyben nincs higany. A számok azt jelzik, hogy az adott sorban, vagy oszlopban mennyi mezőben van higany.

20 + 20 pont



Antimágikus négyzet

Írja be a számokat 1-től 8-ig, illetve 10-ig az ábrákba, minden sorba, oszlopba és átlóba kettőt-kettőt. A számok azt jelölik, hogy mennyi az oda kerülő két szám összege.

20 + 50 pont

