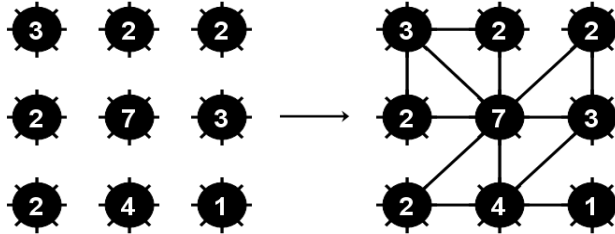



# Küllők

Rajzoljon be az ábrára néhány küllőt, amelyek vízszintesen, függőlegesen vagy átlósan haladhatnak, és nem keresztezik egymást. A kerekbe írt számok azt jelzik, hogy az adott kerékből hány küllő indul ki.


Minta




nr.447



nr.448



nr.449



nr.450

