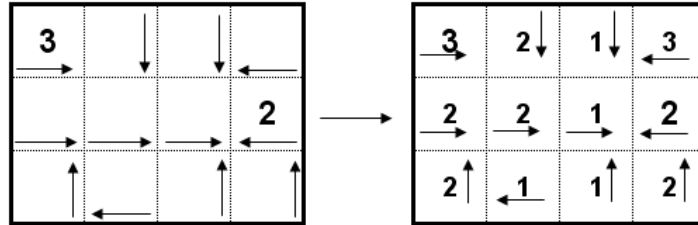


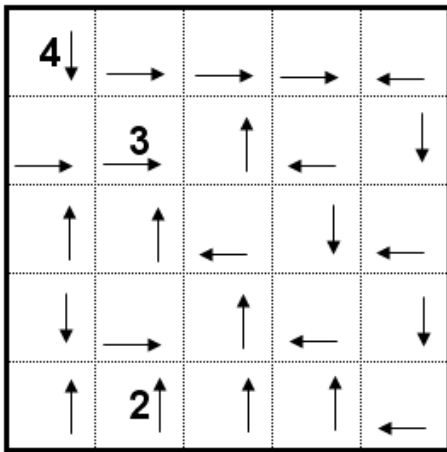
Japán nyilak

Írjon minden mezőbe egy-egy számot úgy, hogy minden szám azt jelentse, hogy onnan a nyíl irányában az ábra széléig összesen hány különböző szám található.

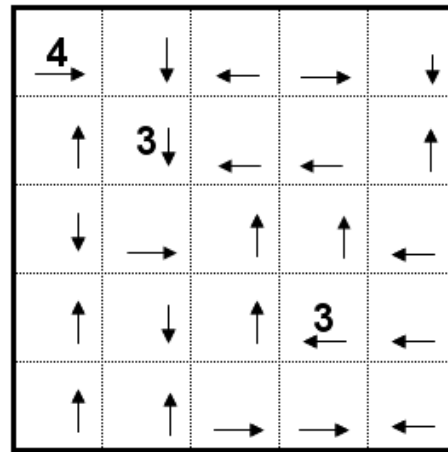
Minta:



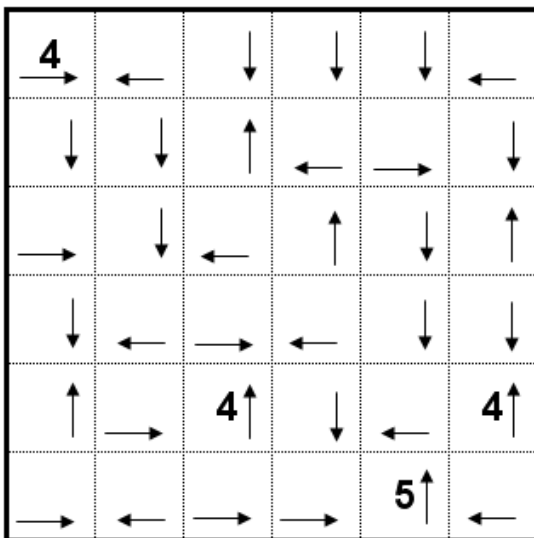
●●●●○○○○○ nr. 57



●●●●○○○○○ nr. 58



●●●●●○○○○ nr. 59



●●●●●○○○○ nr. 60

